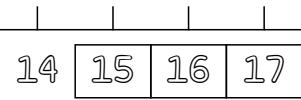





Ejemplo

Resuelve las siguientes operaciones




Dictado de Numeros (100-200)

1- Cuenta hacia adelante a partir del numero.




2- Cuenta hacia adelante a partir del numero.



3- Cuenta hacia atras a partir del numero.



4- Cuenta hacia atras a partir del numero.



Realiza el dibujo de tu preferencia.

