
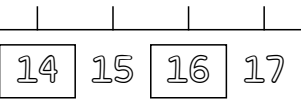




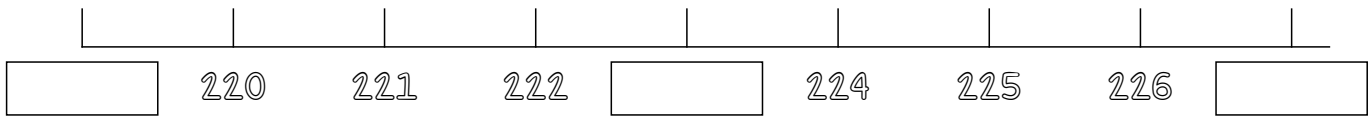
Ejemplo

Resuelve las siguientes operaciones




Dictado de Numeros (100-200)


1- Representa los numeros faltantes en la recta.



2- Incrementa de 10 en 10 el numero dado.



3- Incrementa de 100 en 100 el numero dado.



4- Organiza de mayor a menor la serie de numeros.

550 867 111 257 901 961 469 432 514



5- Incrementa de 5 en 5 el numero dado.

